


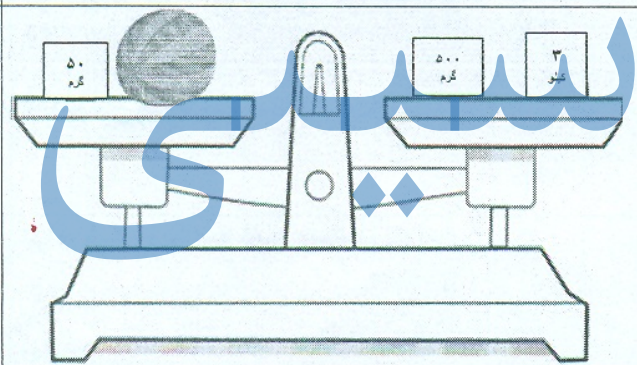



نوبت امتحانی: اول
پایه: سوم
تاریخ امتحان: ۱۴۰۱/۱۰/۴
مدت امتحان:

باسمه تعالی
اداره کل آموزش و پرورش استان س و ب
اداره آموزش و پرورش ناحیه ۲ زاهدان
دبستان پسرانه غیردولتی فرهیختگان دانش

نام:
نام خانوادگی:
شعبه کلاس:
نام درس: ریاضی

نام و نام خانوادگی دبیر:	نمره به عدد:	تجدید نظر:	نام و نام خانوادگی دبیر:	نمره به عدد:	تاریخ و امضا:	نمره به حروف:
ردیف	پیامبر اکرم(ص): « نیکوکاری کامل آن است که در نهان همان را انجام دهی که در آشکارا انجام می دهی »					بارم
۱	یک دلار کشوری ۱۲۰۰ تومان ارزش دارد. ۳ دلار بیش تر است یا ۴۹۹۸ تومان؟ چرا؟					
۲	همه ی عدد های سه رقمی که یکان آن ها ۲ یا ۷، دهگان ۹ و صدگان ۴ یا ۹ باشد را بنویس.					
۳	الگوهای زیر را ادامه بدهید. و و و ۵ و ۳ و ۱ و و و ۳۰۰ و ۲۰۰ و ۱۰۰ و و و ۳۱ و ۲۸ و ۲۶ و ۲۵					
۴	مغازه داری نوعی مداد را ۴۵۰ تومان خرید و ۵۰۰ تومان فروخت. در ۴ مداد چند تومان سود کرده است؟ ۱۰۰ تومان سود چند مداد است؟					
۵	برای شکل زیر سه کسر مساوی بنویس.  = =					
۶	علی ۵ بسته ی ۷ تایی مداد دارد. او چند مداد دارد؟					
۷	دایره ای به شعاع ۲ سانتی متر رسم کن و سپس کسر $\frac{1}{4}$ را روی آن نشان بده.					
۸	احمدآقا در نیمی از باغ خود درخت سیب کاشته است. او نیم دیگر را به سه قسمت تقسیم کرد و یک قسمت آن را نهال گیلاس کاشت. به کمک رسم شکل بنویس چه کسری از باغ، درخت گیلاس کاشته شده است؟					

	<p>در جاهای خالی کلمه (عدد) مناسب بنویس</p> <p>۲۷۵۰ گرم کیلو و گرم</p> <p>عدد ۵۴۲۹ یعنی یکی ده تایی صدتایی و هزارتایی</p> <p>کسر ثلث</p> <p>زاویه ی راست را با شناسایی می کنیم.</p> <p>۸۰۰۰ ریال و ۵۰ تومان باهم تومان می شود.</p> <p>بزرگترین عدد چهار رقمی بدون تکرار</p>	۹	
<p>$\frac{3}{9}$ ○ $\frac{5}{9}$</p> <p>$\frac{2}{3}$ ○ ۱</p> <p>$\frac{1}{4}$ ○ $\frac{1}{6}$</p>	<p>۲ واحد و $\frac{2}{11}$ ○ ۲ واحد و $\frac{1}{11}$ واحد</p> <p>۴ × ۵ ○ ۲ × ۷</p> <p>۱۵۰۰ ریال ○ ۴۰۰ تومان</p>	۱۰	
<p>$2 \times 3 =$</p> <p>$4 \times 7 =$</p>	<p>ضرب های زیر را به روش های خواسته شده به دست آورید .</p> <p>محور $3 \times 4 =$ روش شکل</p> <p>الگو $5 \times 6 =$ جمع</p>	۱۱	
<p>امروز جمعه و سومین روز از ماه است. تا آخر ماه جمعه ها چه روزهایی از ماه است؟</p>			۱۲
	<p>جرم هندوانه ها را حساب کنید .</p>	۱۳	
	<p>عدد ۷۰۴۹ را به حروف بنویس .</p> <p>رقم صفر در چه مرتبه ای قرار دارد ؟</p> <p>در بالاترین مرتبه چه عددی قرار دارد؟</p> <p>بزرگترین عدد در چه مرتبه ای است ؟</p> <p>عدد را به صورت گسترده بنویس .</p>	۱۴	
	<p>پسرم ابتدا شکل را به صورت متقارن رنگ کن، سپس به کمک الگوی شمارشی تعداد مربع های رنگی را به دست آورید.</p>	۱۵	

